

Тренировочная работа №1 по МАТЕМАТИКЕ**11 класс**

3 октября 2023 года

Вариант МА2310102

Выполнена: ФИО _____ класс _____

Инструкция по выполнению работы

Работа по математике включает в себя 21 задание.

На выполнение работы отводится 3 часа (180 минут).

Ответы к заданиям записываются в виде числа или последовательности цифр в поле ответа в тексте работы.

При выполнении заданий можно пользоваться черновиком. Записи в черновике не учитываются при оценивании работы. Баллы, полученные Вами за выполненные задания, суммируются. Постарайтесь выполнить как можно больше заданий и набрать наибольшее количество баллов.

*Желаем успеха!**Ответом к каждому заданию является конечная десятичная дробь, целое число или последовательность цифр. Запишите ответы к заданиям в поле ответа в тексте работы.*

- 1** Каждый день во время конференции расходуется 80 пакетиков чая. Конференция длится 7 дней. В пачке чая 50 пакетиков. Какого наименьшего количества пачек чая хватит на все дни конференции?

Ответ: _____.

- 2** Установите соответствие между величинами и их возможными значениями: к каждому элементу первого столбца подберите соответствующий элемент из второго столбца.

ВЕЛИЧИНЫ	ЗНАЧЕНИЯ
А) объём железнодорожного вагона	1) 300 л
Б) объём бытового холодильника	2) 120 м ³
В) объём воды в Ладожском озере	3) 908 км ³
Г) объём пакета сока	4) 1,5 л

В таблице под каждой буквой, соответствующей величине, укажите номер её возможного значения.

Ответ:

А	Б	В	Г

- 3** В таблице показано расписание пригородных электропоездов по направлению Москва Смоленская – Бородино.

Номер электропоезда	Москва Смоленская	Бородино	Время в пути
1	06:18	08:20	2:02
2	07:51	10:09	2:18
3	09:52	12:19	2:27
4	15:24	17:24	2:00
5	17:26	19:40	2:14

Какой из электропоездов Москва Смоленская – Бородино проводит в пути меньше всего времени? В ответе укажите номер этого электропоезда.

Ответ: _____.

4 Энергия заряженного конденсатора W (в Дж) вычисляется по формуле $W = \frac{CU^2}{2}$, где C — ёмкость конденсатора (в Ф), а U — разность потенциалов на обкладках конденсатора (в В). Найдите W (в Дж), если $C = 10^{-4}$ Ф и $U = 14$ В.

Ответ: _____.

5 Вероятность того, что батарейка бракованная, равна 0,4. Покупатель в магазине выбирает случайную упаковку, в которой две такие батарейки. Найдите вероятность того, что обе батарейки окажутся бракованными.

Ответ: _____.

6 В таблице 1 приведены минимальные баллы ЕГЭ по четырём предметам, необходимые для подачи документов на факультеты 1–6.

Таблица 1

Предмет Факультет	русский язык	обществознание	история	иностраный язык (английский)
1	50	60	60	50
2	27	42	32	40
3	40	70	32	60
4	36	42	50	22
5	27	65	32	55
6	27	42	60	22

В таблице 2 приведены данные о баллах ЕГЭ по четырём предметам абитуриента В.

Таблица 2

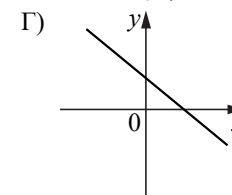
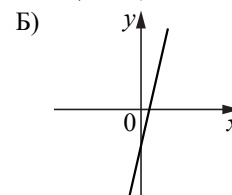
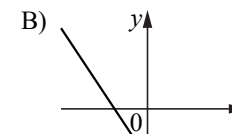
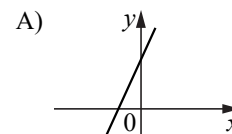
Предмет	русский язык	обществознание	история	английский язык
Баллы	68	65	58	64

Выберите факультеты, на которые может подавать документы абитуриент В. В ответе укажите номера всех выбранных факультетов без пробелов, запятых и других дополнительных символов.

Ответ: _____.

7 На рисунках изображены графики функций вида $y = kx + b$. Установите соответствие между графиками функций и знаками коэффициентов k и b .

ФУНКЦИИ



КОЭФФИЦИЕНТЫ

- 1) $k < 0, b > 0$
- 2) $k > 0, b < 0$
- 3) $k > 0, b > 0$
- 4) $k < 0, b < 0$

В таблице под каждой буквой укажите соответствующий номер.

Ответ:

А	Б	В	Г

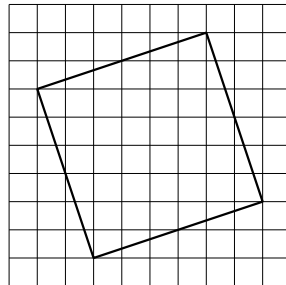
8 В 9 «Б» классе география по расписанию по средам и пятницам. Каждый ученик должен приносить атлас на каждый урок географии. На других уроках атлас не требуется. Выберите утверждения, которые верны при приведённых условиях.

- 1) Всякий день, когда ученик 9 «Б» класса берёт с собой в школу атлас, является пятницей.
- 2) В среду Маше из 9 «Б» класса надо принести в школу атлас.
- 3) По четвергам ученикам 9 «Б» класса не надо брать в школу географический атлас.
- 4) В каждый день, отличный от среды, ученикам 9 «Б» класса атлас можно в школу не брать.

В ответе запишите номера выбранных утверждений без пробелов, запятых и других дополнительных символов.

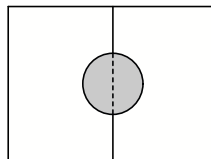
Ответ: _____.

9 План местности разбит на клетки. Каждая клетка обозначает квадрат $1\text{ м} \times 1\text{ м}$. Найдите площадь участка, выделенного на плане. Ответ дайте в квадратных метрах.



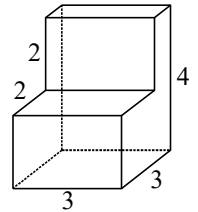
Ответ: _____.

10 Два садовода, имеющие прямоугольные участки размерами 24 м на 30 м с общей границей, договорились и сделали общий круглый пруд площадью 140 квадратных метров (см. чертёж), причём граница участков проходит точно через центр пруда. Какова площадь (в квадратных метрах) оставшейся части участка каждого садовода?



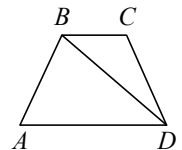
Ответ: _____.

11 Деталь имеет форму изображённого на рисунке многогранника (все двугранные углы прямые). Числа на рисунке обозначают длины рёбер в сантиметрах. Найдите объём этой детали. Ответ дайте в кубических сантиметрах.



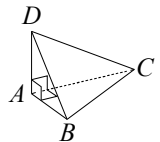
Ответ: _____.

12 В трапеции $ABCD$ известно, что $AB = CD$, $\angle BDA = 50^\circ$ и $\angle BDC = 33^\circ$. Найдите угол ABD . Ответ дайте в градусах.



Ответ: _____.

13 В треугольной пирамиде $ABCD$ рёбра AB , AC и AD взаимно перпендикулярны. Найдите объём этой пирамиды, если $AB = 3$, $AC = 18$ и $AD = 7$.



Ответ: _____.

14 Найдите значение выражения $\frac{4,7 - 1,4}{7,5}$.

Ответ: _____.

15 В школе мальчики составляют 53 % числа всех учащихся. Сколько в этой школе всего учащихся, если девочек в ней на 24 человека меньше, чем мальчиков?

Ответ: _____.

16) Найдите значение выражения $40\sqrt{3} \sin 780^\circ$.

Ответ: _____.

17) Найдите корень уравнения $2^{3x+4} \cdot 2^{5-2x} = 64$.

Ответ: _____.

18) Каждому из четырёх неравенств в левом столбце соответствует одно из решений в правом столбце. Установите соответствие между неравенствами и их решениями.

НЕРАВЕНСТВА

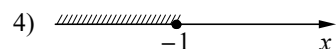
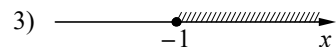
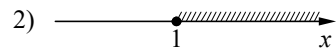
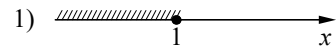
А) $3^x \geq \frac{1}{3}$

Б) $\left(\frac{1}{3}\right)^x \geq \frac{1}{3}$

В) $\left(\frac{1}{3}\right)^x \leq \frac{1}{3}$

Г) $3^x \leq \frac{1}{3}$

РЕШЕНИЯ



Впишите в приведённую в ответе таблицу под каждой буквой соответствующий решению номер.

Ответ:

А	Б	В	Г

19) Найдите пятизначное число, кратное 12, произведение цифр которого равно 40. В ответе укажите какое-нибудь одно такое число.

Ответ: _____.

20) Имеется два сплава. Первый сплав содержит 50 % меди, второй — 15 % меди. Из этих двух сплавов получили третий сплав, содержащий 45 % меди. Масса первого сплава равна 30 кг. Найдите массу третьего сплава. Ответ дайте в килограммах.

Ответ: _____.

21) Клетки таблицы 4×5 раскрашены в чёрный и белый цвета так, что получилось 15 пар соседних клеток разного цвета и 11 пар соседних клеток чёрного цвета. (Клетки считаются соседними, если у них есть общая сторона.) Сколько пар соседних клеток белого цвета?

Ответ: _____.