

Тренировочная работа №1 по МАТЕМАТИКЕ**11 класс**

3 октября 2023 года

Вариант МА2310104

Выполнена: ФИО _____ класс _____

Инструкция по выполнению работы

Работа по математике включает в себя 21 задание.

На выполнение работы отводится 3 часа (180 минут).

Ответы к заданиям записываются в виде числа или последовательности цифр в поле ответа в тексте работы.

При выполнении заданий можно пользоваться черновиком. Записи в черновике не учитываются при оценивании работы. Баллы, полученные Вами за выполненные задания, суммируются. Постарайтесь выполнить как можно больше заданий и набрать наибольшее количество баллов.

*Желаем успеха!**Ответом к каждому заданию является конечная десятичная дробь, целое число или последовательность цифр. Запишите ответы к заданиям в поле ответа в тексте работы.*

- 1** Каждый день во время конференции расходуется 90 пакетиков чая. Конференция длится 7 дней. В пачке чая 100 пакетиков. Какого наименьшего количества пачек чая хватит на все дни конференции?

Ответ: _____.

- 2** Установите соответствие между величинами и их возможными значениями: к каждому элементу первого столбца подберите соответствующий элемент из второго столбца.

ВЕЛИЧИНЫ	ЗНАЧЕНИЯ
А) объём комнаты	1) 78 200 км ³
Б) объём воды в Каспийском море	2) 75 м ³
В) объём ящика для овощей	3) 50 л
Г) объём банки сметаны	4) 0,5 л

В таблице под каждой буквой, соответствующей величине, укажите номер её возможного значения.

Ответ:

А	Б	В	Г

- 3** В таблице показано расписание пригородных электропоездов по направлению Москва Савёловская – Большая Волга (город Дубна).

Номер электропоезда	Москва Савёловская	Большая Волга	Время в пути
1	17:30	19:20	1:50
2	18:18	20:39	2:21
3	19:39	21:53	2:14
4	20:44	23:10	2:26
5	22:00	23:49	1:49

Какой из электропоездов Москва Савёловская – Дубна проводит в пути меньше всего времени? В ответе укажите номер этого электропоезда.

Ответ: _____.

4 Энергия заряженного конденсатора W (в Дж) вычисляется по формуле $W = \frac{CU^2}{2}$, где C — ёмкость конденсатора (в Ф), а U — разность потенциалов на обкладках конденсатора (в В). Найдите W (в Дж), если $C = 10^{-4}$ Ф и $U = 20$ В.

Ответ: _____.

5 Вероятность того, что батарейка бракованная, равна 0,02. Покупатель в магазине выбирает случайную упаковку, в которой две такие батарейки. Найдите вероятность того, что обе батарейки окажутся бракованными.

Ответ: _____.

6 В таблице 1 приведены минимальные баллы ЕГЭ по четырём предметам, необходимые для подачи документов на факультеты 1–6.

Таблица 1

Предмет Факультет	математика (проф. ур.)	русский язык	обществознание	иностраннный язык (английский)
1	50	50	50	50
2	27	36	45	60
3	60	50	50	60
4	40	61	42	22
5	42	36	42	22
6	36	50	60	40

В таблице 2 приведены данные о баллах ЕГЭ по четырём предметам абитуриента В.

Таблица 2

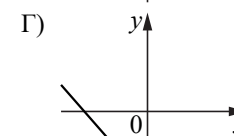
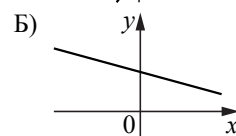
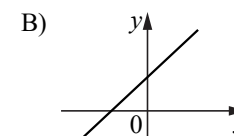
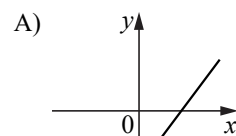
Предмет	математика (проф. ур.)	русский язык	обществознание	английский язык
Баллы	40	76	48	82

Выберите факультеты, на которые может подавать документы абитуриент В. В ответе укажите номера всех выбранных факультетов без пробелов, запятых и других дополнительных символов.

Ответ: _____.

7 На рисунках изображены графики функций вида $y = kx + b$. Установите соответствие между графиками функций и знаками коэффициентов k и b .

ФУНКЦИИ



КОЭФФИЦИЕНТЫ

- 1) $k > 0, b > 0$
- 2) $k < 0, b < 0$
- 3) $k > 0, b < 0$
- 4) $k < 0, b > 0$

В таблице под каждой буквой укажите соответствующий номер.

Ответ:

А	Б	В	Г

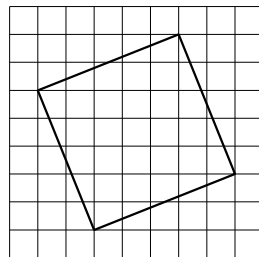
8 Игорь Витальевич часто ездит на работу на велосипеде. Он не ездит на велосипеде в те дни, когда идёт дождь или снег, а также по четвергам, когда он надевает парадный костюм. Выберите утверждения, которые верны при приведённых условиях.

- 1) Сегодня Игорь Витальевич приехал на работу на велосипеде, значит, сегодня нет дождя.
- 2) Каждый раз, когда в течение дня ясная погода, Игорь Витальевич ездит на работу на велосипеде.
- 3) Каждый раз, когда Игорь Витальевич добирается до работы без велосипеда, он одет в парадный костюм.
- 4) Каждый раз, когда на улице идёт снег, Игорь Витальевич добирается до работы без велосипеда.

В ответе запишите номера выбранных утверждений без пробелов, запятых и других дополнительных символов.

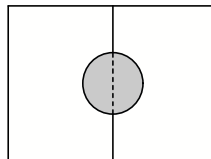
Ответ: _____.

9 План местности разбит на клетки. Каждая клетка обозначает квадрат $1\text{ м} \times 1\text{ м}$. Найдите площадь участка, выделенного на плане. Ответ дайте в квадратных метрах.



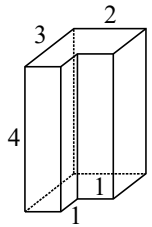
Ответ: _____.

10 Два садовода, имеющие прямоугольные участки размерами 20 м на 30 м с общей границей, договорились и сделали общий круглый пруд площадью 140 квадратных метров (см. чертёж), причём граница участков проходит точно через центр пруда. Какова площадь (в квадратных метрах) оставшейся части участка каждого садовода?



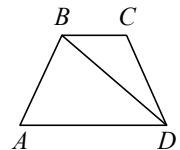
Ответ: _____.

11 Деталь имеет форму изображённого на рисунке многогранника (все двугранные углы прямые). Числа на рисунке обозначают длины рёбер в сантиметрах. Найдите объём этой детали. Ответ дайте в кубических сантиметрах.



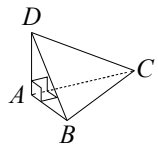
Ответ: _____.

12 В трапеции $ABCD$ известно, что $AB = CD$, $\angle BDA = 52^\circ$ и $\angle BDC = 26^\circ$. Найдите угол ABD . Ответ дайте в градусах.



Ответ: _____.

13 В треугольной пирамиде $ABCD$ рёбра AB , AC и AD взаимно перпендикулярны. Найдите объём этой пирамиды, если $AB = 2$, $AC = 15$ и $AD = 11$.



Ответ: _____.

14 Найдите значение выражения $\frac{6,8 - 4,7}{1,4}$.

Ответ: _____.

15 В школе мальчики составляют 55% числа всех учащихся. Сколько в этой школе всего учащихся, если мальчиков в ней на 60 человек больше, чем девочек?

Ответ: _____.

16) Найдите значение выражения $27\sqrt{2} \sin 765^\circ$.

Ответ: _____.

17) Найдите корень уравнения $6^{2x-6} \cdot 6^{5-3x} = 216$.

Ответ: _____.

18) Каждому из четырёх неравенств в левом столбце соответствует одно из решений в правом столбце. Установите соответствие между неравенствами и их решениями.

НЕРАВЕНСТВА

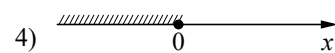
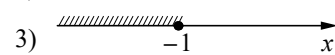
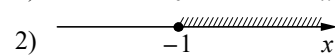
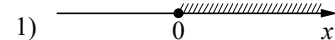
A) $2^x \geq 1$

Б) $2^x \leq 1$

В) $0,5^x \leq 2$

Г) $0,5^x \geq 2$

РЕШЕНИЯ



Впишите в приведённую в ответе таблицу под каждой буквой соответствующий решению номер.

Ответ:

А	Б	В	Г

19) Найдите четырёхзначное число, кратное 12, произведение цифр которого равно 60. В ответе укажите какое-нибудь одно такое число.

Ответ: _____.

20) Имеется два сплава. Первый сплав содержит 5 % меди, второй — 40 % меди. Из этих двух сплавов получили третий сплав, содержащий 10 % меди. Масса первого сплава равна 60 кг. Найдите массу третьего сплава. Ответ дайте в килограммах.

Ответ: _____.

21) Клетки таблицы 6×6 раскрашены в чёрный и белый цвета так, что получилось 30 пар соседних клеток разного цвета и 16 пар соседних клеток чёрного цвета. (Клетки считаются соседними, если у них есть общая сторона.) Сколько пар соседних клеток белого цвета?

Ответ: _____.